

## Тестові завдання для 5 -7 класів

### «Алгоритми засобами «Скретч»»



Вкажіть назву стрічки, де знаходиться команда позначена літерою Б?

- ☐ керувати
- ☐ величини
- ☐ події
- ☐ датчики
- ☐ оператори
- ☐ олівець
- ☐ вигляд
- ☐ рух

Заєць Б.П. учитель інформатики БЗШ № 7

Заєць Б.Б. учениця 10-го класу Білоцерківське навчально-виховне об'єднання ЛІЦЕЙ- Мала Академія Наук



Вкажіть назву стрічки, де знаходиться команда позначена літерою Г?

- ☐ вигляд
- ☐ датчики
- ☐ величини
- ☐ події
- ☐ рух
- ☐ олівець
- ☐ керувати
- ☐ оператори

Заєць Б.П. учитель інформатики БЗШ № 7

Заєць Б.Б. учениця 10-го класу Білоцерківське навчально-виховне об'єднання ЛІЦЕЙ- Мала Академія Наук



Вкажіть назву стрічки, де знаходиться команда позначена літерою В?

- ☐ оператори
- ☐ події
- ☐ величини
- ☐ датчики
- ☐ олівець
- ☐ вигляд
- ☐ рух
- ☐ керувати

Заєць Б.П. учитель інформатики БЗШ № 7

Заєць Б.Б. учениця 10-го класу Білоцерківське навчально-виховне об'єднання ЛІЦЕЙ- Мала Академія Наук

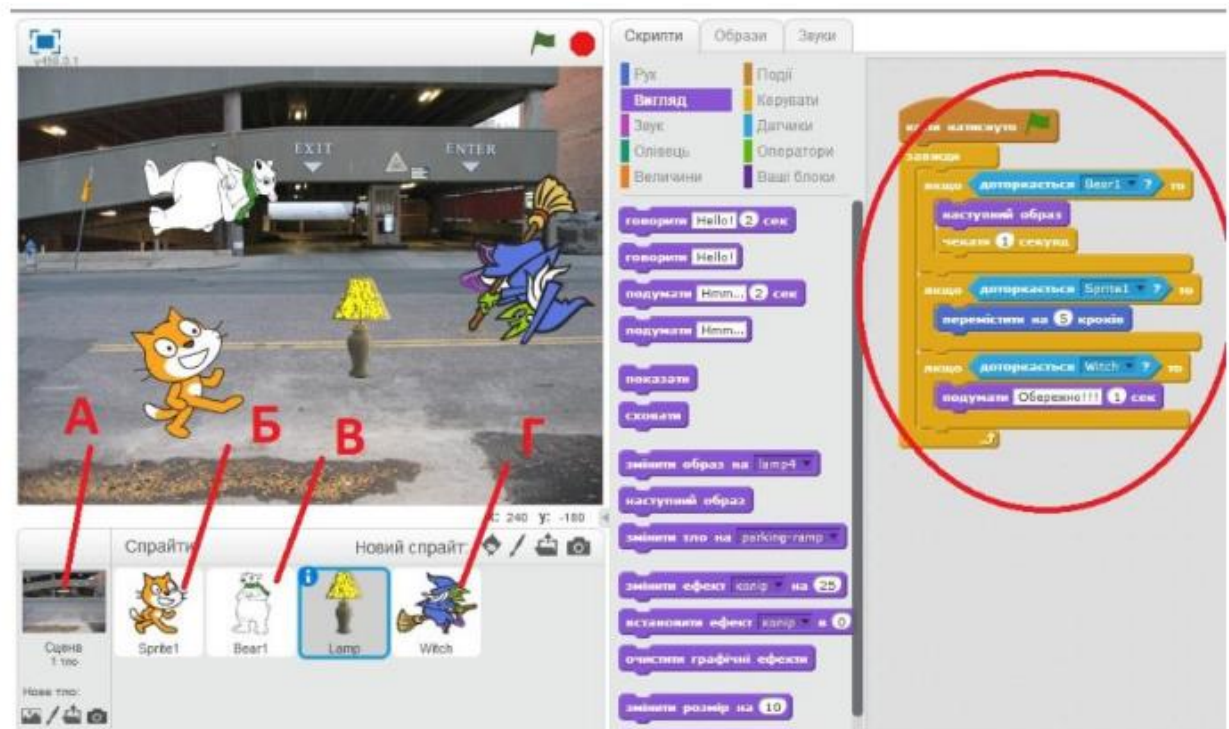


Вкажіть назву стрічки, де знаходиться команда позначена літерою Е?

- ☐ олівець
- ☐ величини
- ☐ вигляд
- ☐ події
- ☐ оператори
- ☐ рух
- ☐ керувати
- ☐ датчики

Заєць Б.П. учитель інформатики БЗШ № 7

Заєць Б.Б. учениця 10-го класу Білоцерківське навчально-виховне об'єднання ЛІЦЕЙ- Мала Академія Наук

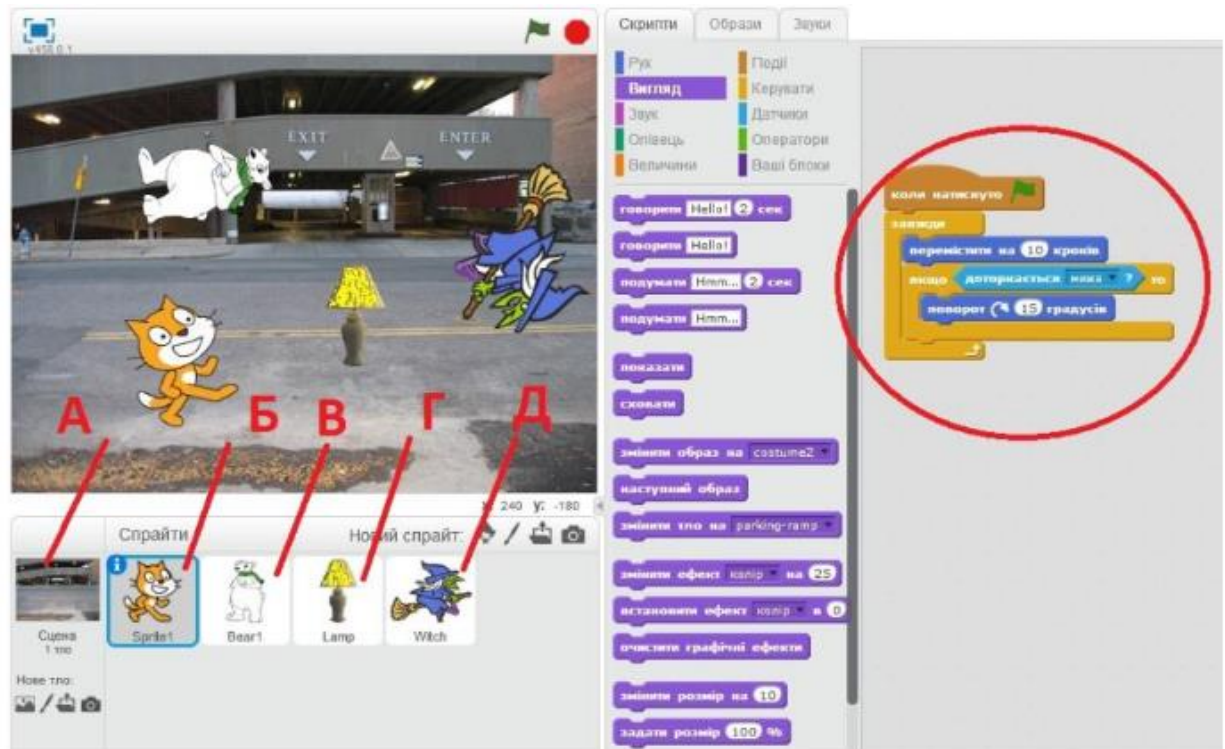


Які дії виконує ЛАМПА, якщо до неї доторкається спрайт Г?

- ☐ переміщується на 5 кроків
- ☐ змінює образ на наступний
- ☐ виводить повідомлення "Обережно!!!"

Заєць Б.П. учитель інформатики БЗШ № 7

Заєць Б.Б. учениця 10-го класу Білоцерківське навчально-виховне об'єднання ЛІЦЕЙ- Мала Академія Наук



Вкажіть для якого спрайту показано набір команд?

- ☐ А
- ☐ Д
- ☐ В
- ☐ Б
- ☐ Г



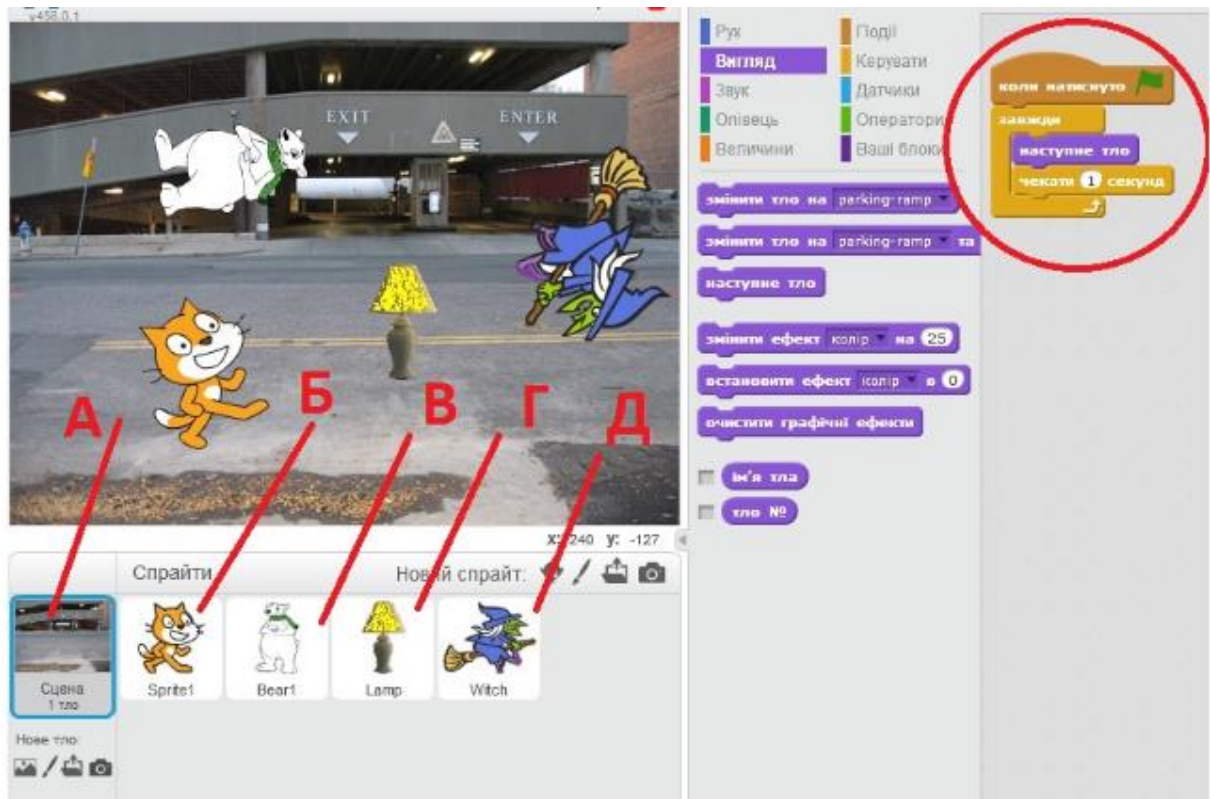
Заєць Б.Б. учениця 10-го класу Білоцерківське навчально-виховне об'єднання ЛІЦЕЙ- Мала Академія Наук



- ☐ В
  - ☐ Г
  - ☐ Б
  - ☐ А

Заєць Б.П. учитель інформатики БЗШ № 7

Заєць Б.Б. учениця 10-го класу Білоцерківське навчально-виховне об'єднання ЛІЦЕЙ- Мала Академія Наук



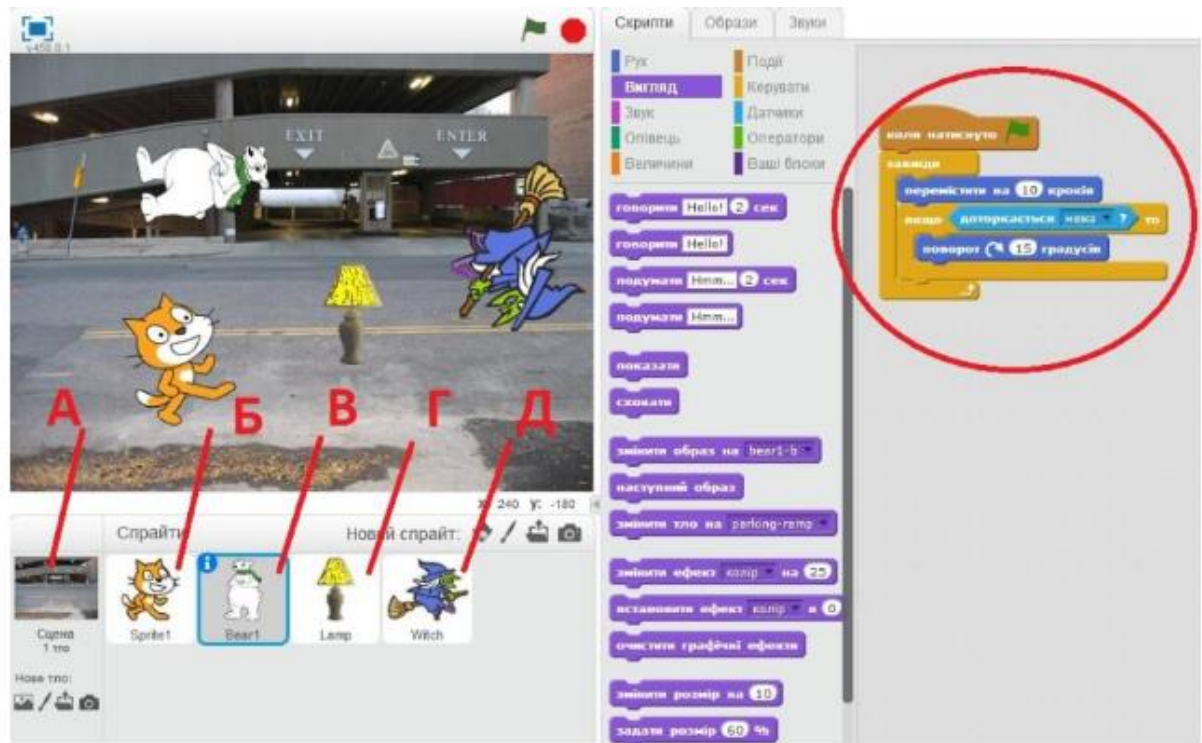
Вкажіть для якого спрайту показано набір команд?

- ☐ В
- ☐ Б
- ☐ А
- ☐ Г
- ☐ Д



Заєць Б.П. учитель інформатики БЗШ № 7

Заєць Б.Б. учениця 10-го класу Білоцерківське навчально-виховне об'єднання ЛІЦЕЙ- Мала Академія Наук



Вкажіть для якого спрайту показано набір команд?

- ☐ А
- ☐ Г
- ☐ Д
- ☐ Б
- ☐ В

Заєць Б.П. учитель інформатики БЗШ № 7

Заєць Б.Б. учениця 10-го класу Білоцерківське навчально-виховне об'єднання ЛІЦЕЙ- Мала Академія Наук




Вкажіть назву стрічки, де знаходиться команда позначена літерою А?

- ☐ величини
- ☐ оператори
- ☐ рух
- ☐ датчики
- ☐ олівець
- ☐ вигляд
- ☐ події
- ☐ керувати

Заєць Б.П. учитель інформатики БЗШ № 7

Заєць Б.Б. учениця 10-го класу Білоцерківське навчально-виховне об'єднання ЛІЦЕЙ- Мала Академія Наук

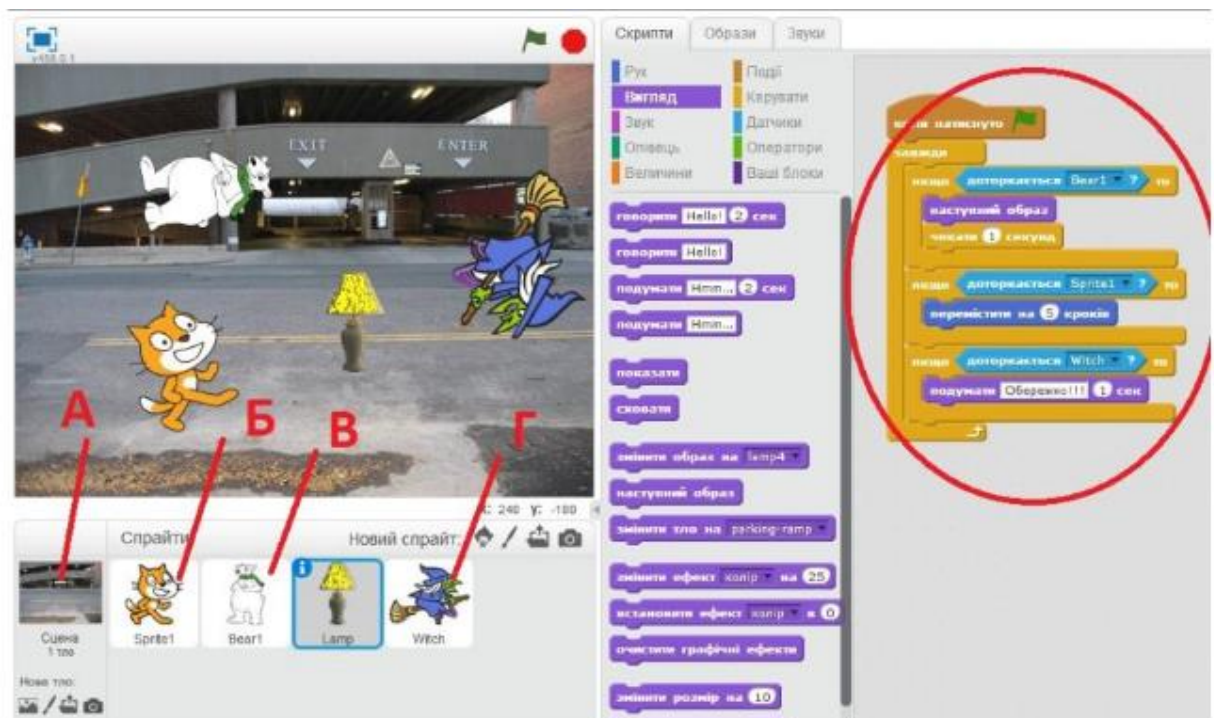


Вкажіть назву стрічки, де знаходиться команда позначена літерою Д?

- ☐ події
- ☐ рух
- ☐ керувати
- ☐ датчики
- ☐ олівець
- ☐ величини
- ☐ вигляд
- ☐ оператори

Заєць Б.П. учитель інформатики БЗШ № 7

Заєць Б.Б. учениця 10-го класу Білоцерківське навчально-виховне об'єднання ЛІЦЕЙ- Мала Академія Наук

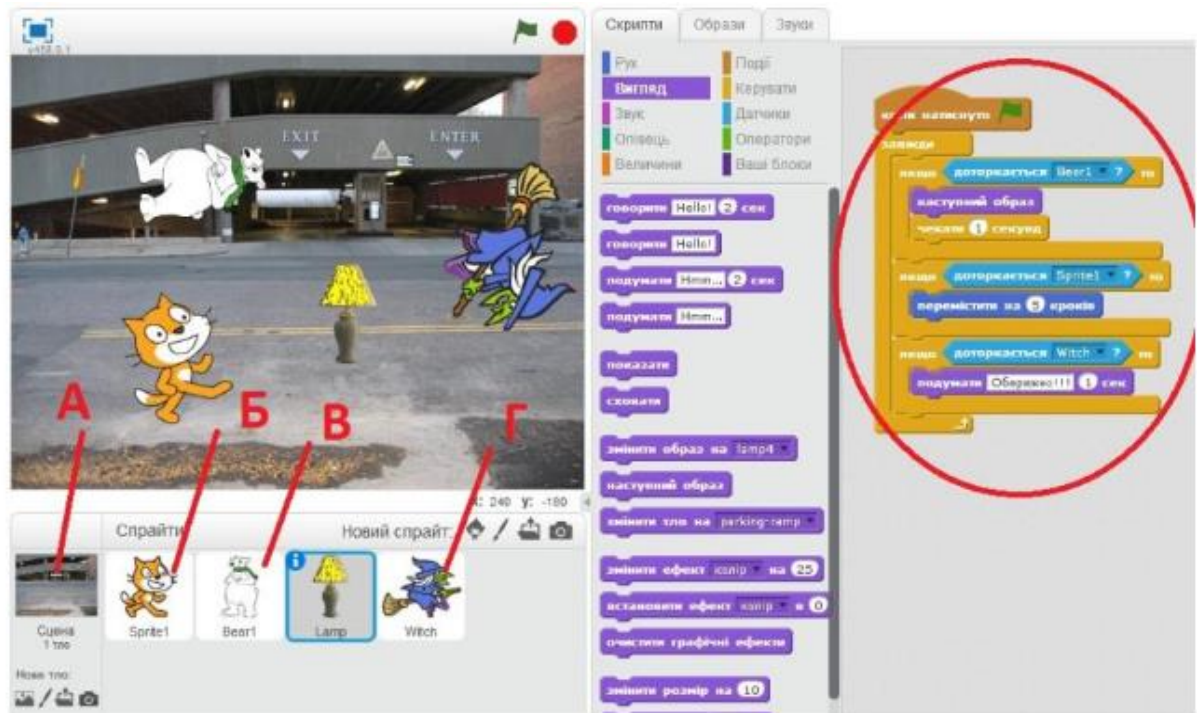


Який із спрайтів змінює образ ЛАМПИ на наступний?

- ☐ В
- ☐ Б
- ☐ А
- ☐ Г

Заєць Б.П. учитель інформатики БЗШ № 7

Заєць Б.Б. учениця 10-го класу Білоцерківське навчально-виховне об'єднання ЛІЦЕЙ- Мала Академія Наук



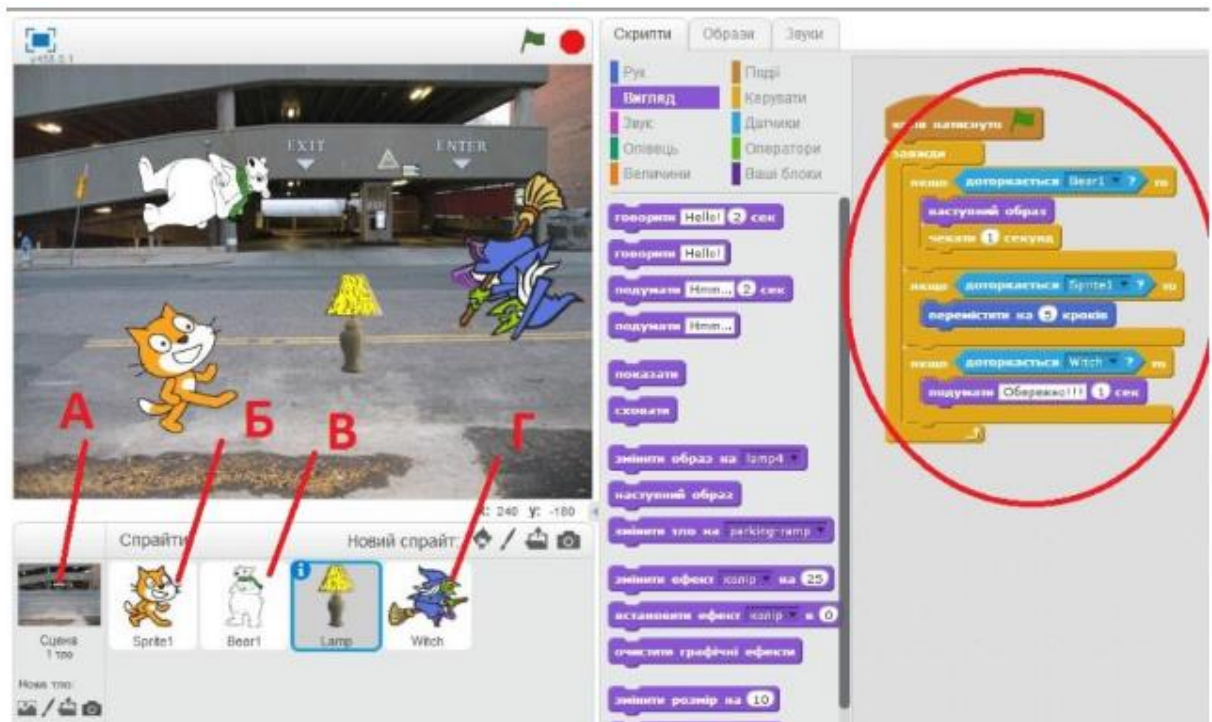
Який із спрайтів отримує повідомлення ЛАМПИ "Обережно!!!"?

- ☐ Б
- ☐ В
- ☐ А
- ☐ Г



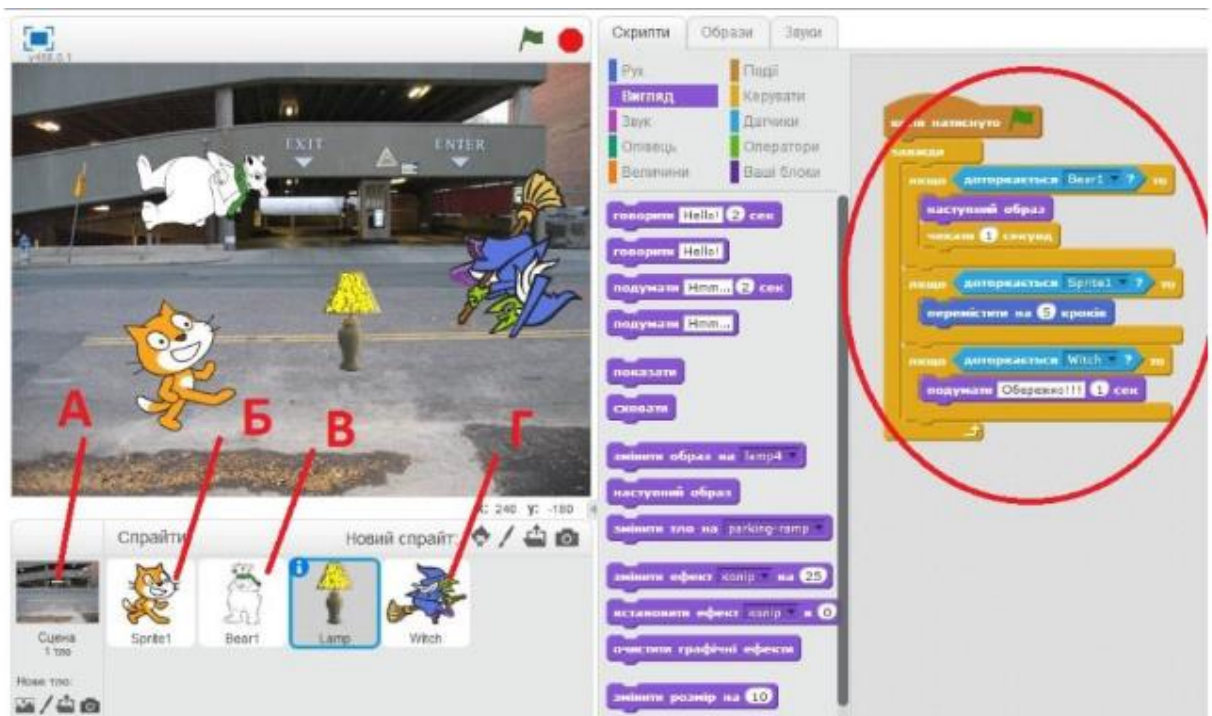
Заєць Б.П. учитель інформатики БЗШ № 7

Заєць Б.Б. учениця 10-го класу Білоцерківське навчально-виховне об'єднання ЛІЦЕЙ- Мала Академія Наук



Які дії виконує ЛАМПА, якщо до неї доторкається спрайт Б?

- ☐ переміщується на 5 кроків
- ☐ виводить повідомлення "Осторожно!!!"
- ☐ змінює образ на наступний



Які дії виконує ЛАМПА, якщо до неї доторкається спрайт В?

- ☐ переміщується на 5 кроків
- ☐ виводить повідомлення "Осторожно!!!"
- ☐ змінює образ на наступний