



ЧОМУ СВІТЛО НЕ МОЖЕ ЖИТИ БЕЗ ТІНІ?

НАМАЛЮЙ ОБ'ЄКТ ЗА ОПИСОМ

**Фрукт, кисленький,
жовтий, тропічний.**

**Дерево, струнка,
білокора.**

Дослідник-це

Об'єкт-це



М
и
у
а
с
л
і
у
н
и
к
и

наведи приклади

жива	нежива	рукотворні
природа	природа	об'єкти



підпиши множину об'єктів





підпиши небесні тіла



«Проведи» уявну екскурсію Сонячною системою для гостей з іншої галактики.




Д
а
с
л
і
ф
ж
у
е
м
а
к
а
с
м
а
с

намалюй і назви своє сузір'я



Видумай планету та намалюй. Придумай назву

твої способи знищення космічного сміття



Глобус-це

Намалюй глобус
Коли Земля
обертається, то
змінюється ...

П
л
а
н
е
т
а
З
е
м
л
я

Рік триває

Високосний рік триває

Доба триває

	ВЕРЕСЕНЬ/09							ЖОВТЕНЬ/10							ЛИСТОПАД/11							ГРУДЕНЬ/12							
Пн		7	14	21	28		5	12	19	26		2	9	16	23		30	7	14	21	28	Пн							
Вт	1	8	15	22	29	6	13	20	27	3	10	17	24	30	1	8	15	22	29	Вт									
Ср	2	9	16	23	30	7	14	21	28	4	11	18	25	2	9	16	23	30	Ср										
Чт	3	10	17	24	1	8	15	22	29	5	12	19	26	3	10	17	24	31	Чт										
Пт	4	11	18	25	2	9	16	23	30	6	13	20	27	4	11	18	25	Пт											
Сб	5	12	19	26	3	10	17	24	31	7	14	21	28	5	12	19	26	Сб											
Нд	6	13	20	27	4	11	18	25	1	8	15	22	29	6	13	20	27	Нд											
	СІЧЕНЬ/01							ЛЮТИЙ/02							БЕРЕЗЕНЬ/03							КВІТЕНЬ/04							
Пн		4	11	18	25	1	8	15	22	1	8	15	22	29	5	12	19	26	Пн										
Вт	5	12	19	26	2	9	16	23	2	9	16	23	30	6	13	20	27	Вт											
Ср	6	13	20	27	3	10	17	24	3	10	17	24	31	7	14	21	28	Ср											
Чт	7	14	21	28	4	11	18	25	4	11	18	25	1	8	15	22	29	Чт											
Пт	1	8	15	22	29	5	12	19	26	5	12	19	26	2	9	16	23	30	Пт										
Сб	2	9	16	23	30	6	13	20	27	6	13	20	27	3	10	17	24	Сб											
Нд	3	10	17	24	31	7	14	21	28	7	14	21	28	4	11	18	25	Нд											
	ТРАВЕНЬ/05							ЧЕРВЕНЬ/06							ЛИПЕНЬ/07							СЕРПЕНЬ/08							
Пн		3	10	17	24	31	7	14	21	28		5	12	19	26		2	9	16	23	30	Пн							
Вт	4	11	18	25	1	8	15	22	29	6	13	20	27	3	10	17	24	31	Вт										
Ср	5	12	19	26	2	9	16	23	30	7	14	21	28	4	11	18	25	Ср											
Чт	6	13	20	27	3	10	17	24	1	8	15	22	29	5	12	19	26	Чт											
Пт	7	14	21	28	4	11	18	25	2	9	16	23	30	6	13	20	27	Пт											
Сб	1	8	15	22	29	5	12	19	26	3	10	17	24	31	7	14	21	28	Сб										
Нд	2	9	16	23	30	6	13	20	27	4	11	18	25	1	8	15	22	29	Нд										

Познач дні рівнодення та сонцестояння



Упізнай материки та підпиши.



Щоб ти хотів змінити на планеті Земля?

Як ти гадаєш, як зменшити кількість сміття на нашій планеті?



Півкулі бувають

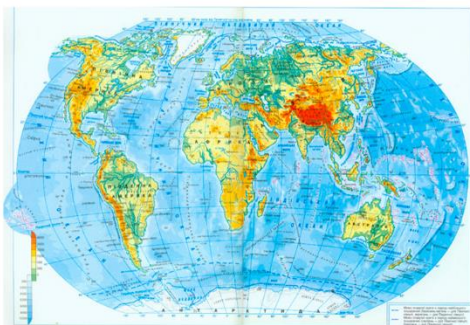
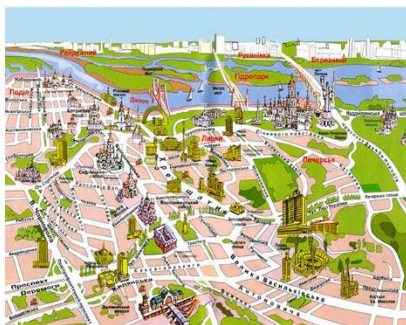
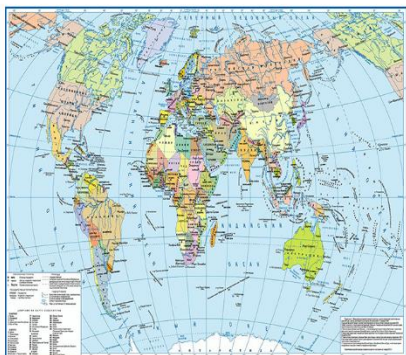
Полюси бувають

Карта-це

Картограф-це

П
л
а
н
і
к
а
р
т
а

В
и
д
и
ш
и
р
т



Яким кольором позначають:
водні об'єкти


сушу

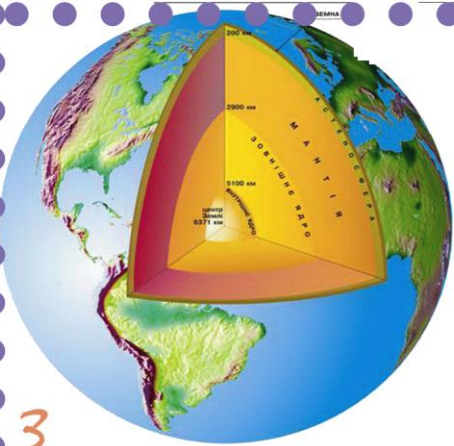
Створи план своєї вулиці за допомогою
умовних позначень

Напиши свою адресу,
починаючи з

Сонячна система,

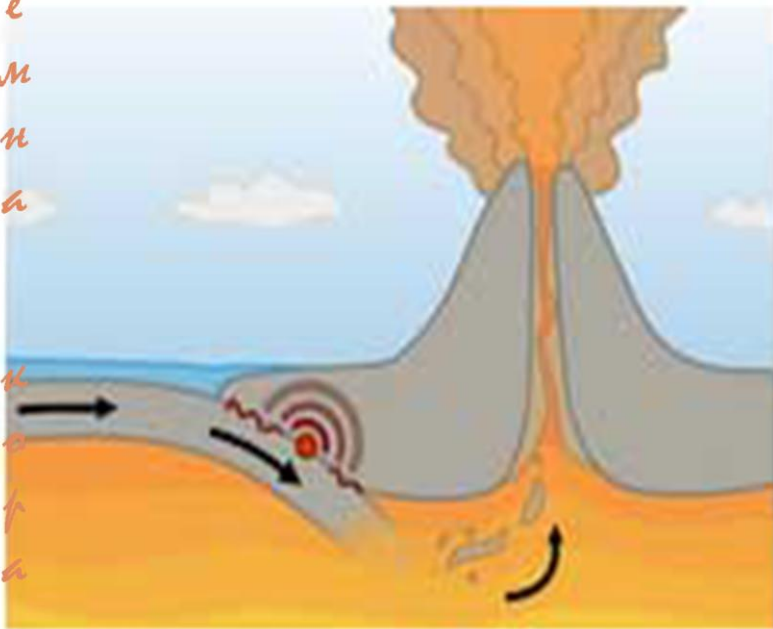
Підпиши сторони
горизонту





Підпиши частини земної кори.

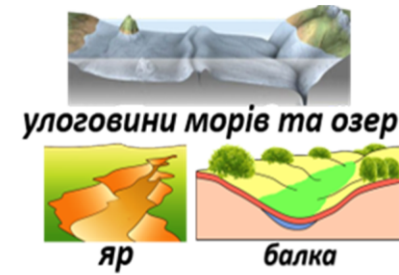
З
е
м
н
а



Познач будову вулкана

Як гадаєш, чому вулкани прокидаються?

Придумай та намалюй: згаслий, сплячий та діючий вулкани.



Обери форми рельєфу, які є у твоїй місцевості.

Чи переживав ти у своєму житті землетрус?

А що ж таке землетрус?

Чому виникає землетрус?

Твої дії під час землетрусу:

Придумай та намалюй умовні значки для позначення річок, озер, океанів, ставків.

Земна кора складається з.....

.....



Напиши, які гірські породи та мінерали є у твоїй місцевості...



С
к
а
р
б
и
З
е
м
л
і

Намалюй, як можна використати пісок???



Напиши, які гірські породи та мінерали ти використовуєш вдома.

Найбагатша корисна копалина, що годує людей.



Підпиши шари ґрунту.



Тест

- 1. Гірська порода - це
 - а) природні тіла, які знаходяться на поверхні Землі;
 - б) природні тіла, які знаходяться в глибинах Землі;
 - в) природні тіла, які знаходяться в глибинах Землі та на її поверхні.
- 2. Якою гірською породою ми смачимо страви?
 - а) кам'яним вугіллям;
 - б) сіллю;
 - в) вапняком.
- 3. Що означає «бурити»?
 - а) робити свердловини у глибинах Землі за допомогою спеціального обладнання;
 - б) зафарбовувати бурим кольором;
 - в) добувати гірські породи
- 4. Підкресліть слова, які є назвами гірських порід:
 - Граніт, пісок, цукор, вапняк, дерево, вугілля, олія, глина, піщаник.
- 5. Наведіть приклад гірської породи, яка має таку властивість:
 - пухкий і розсипчастий - _____
 - пластична - _____
 - горюче - _____

Я
З
Н
А
Ю
!



Обведи відповідним кольором:

ВОДНІ ОБ'ЄКТИ

ЯВИЩА

океан дощ водоспад град
випаровування річка сніг озеро



Д
а
с
л
і
ф
н
у
є
м
а
в
а
ф
у



Підпиши етапи кругообігу води в природі:

СТАНИ ВОДИ




Познач градусник та підпиши у чому вимірюють температуру.

Напиши небезпечні природні явища, пов'язані з водою.



СТВОРИ СВІЙ АЛГОРИТМ ЗА СХЕМОЮ



атмосфера-це

Намалюй та
напиши все, що
може бути в
атмосфері.

А
Т
М
О
С
Ф
Е
Р
А

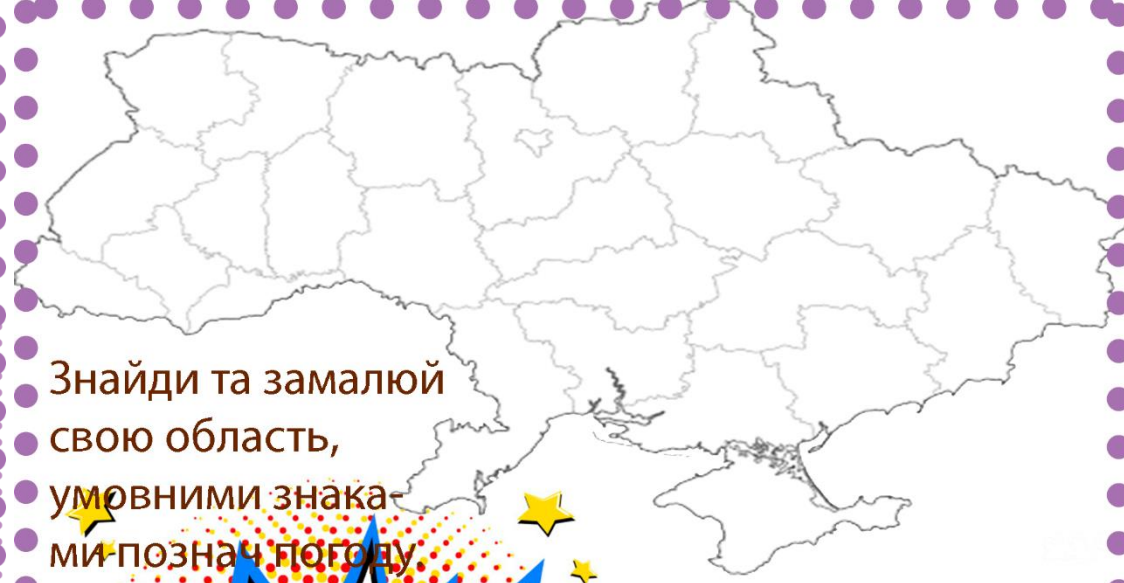
Чим дихають живі
організми?

кисень

вуглекислий
газ



Намалюй та підпиши шар,
що захищає Землю




Знайди та замалюй
свою область,
умовними знака-
ми познач погоду

Які погодні явища
можуть бути не-
безпечними?

Що таке хмара?.....

.....
Ти вже знаєш, що бувають
різні види хмар. Поглянь
за вікно і намалюй хмари,
які зараз на небі.

Передбач за ними погоду!





УПІЗНАЙ ГРИБОЧКИ

червоним обведи отруйні

зеленим обведи їстівні

Підпиши назви рослин за групами:


ДЕРЕВА

КУЩІ

ТРАВ'ЯНИСТІ



ОПИШИ ЖИТТЄВИЙ ЦИКЛ РОСЛИНИ ЗА СХЕМОЮ



ОВОЧІ ЯГОДИ ФРУКТИ
ОБВЕДИ



Я ЗНАЮ БУДОВУ РОСЛИН. ПІДПИШИ



ВІДНЕСИ КОЖНУ ТВАРИНУ ДО ПЕВНОЇ ГРУПИ

ХИЖІ

ВОДНІ

СТРІЛОЧКОЮ

СВІЙСЬКІ

СТВОРИ ЛАНЦЮГ ЖИВЛЕННЯ



Напиши розповідь про домашнього улюбленця

Досліджуємо

тварин

ХРЕНІ



БЕЗХРЕБЕТНІ

РОСЛИНОЇДНІ

СУХОПУТНІ

Handwriting practice area with horizontal lines and a red margin line.




Д
о
с
л
і
д
ж
у
є
м
о

е
к
о
с
и
с
т
е
м
и

підпиши екосистему кожної тварини



ВИКОНАЙ ТВОРЧЕ ЗАВДАННЯ ВДОМА. ОБЕРИ ЕКОСИСТЕМУ В МЕЖАХ СВОГО МІСТА(СЕЛА), СХОДИ ТУДИ ТА ЗАМАЛЮЙ.



ОЖИВИ ЛАНЦЮГИ ЖИВЛЕННЯ


ЛІСОВІ ЯГОДИ

ЛИСТЯ

ЩО ЦЕ ЗА ЕКОСИСТЕМА?.....

ЦЯ ЕКОСИСТЕМА: ПРИРОДНЯ НАПІВПРИРОДНЯ ШТУЧНА

ПОЗНАЧ: ЖИВА ПРИРОДА, НЕЖИВА ПРИРОДА



Як ти гадаєш, що таке довкілля?.....

.....

Якої шкоди люди завдають довкіллю?

А як природу можна оберігати? _____



Намалюй річ, яку ти робиш
дуже часто,
для збереження довкілля.



Як твоя сім'я
утилізує сміття?


ДОЛУЧИСЯ ДО ПРОЄКТУ "ЧИСТЕ ДОВКІЛЛЯ"

Обери забруднене місце у своїй місцевості, сфотографуй, збери однодумців та прибери його. Сфотографуй та приклей.


ДО

ПІСЛЯ

Який би ти хотів придумати прилад і для чого? _____



твоя улюблена техніка?



т
с
т
о
р
і
я

ТЕХНІЧНІ ЗАДАЧКИ

Принтер друкує за 1 хвилину 40 листів. Скільки листів він надрукує за 5 хвилин?



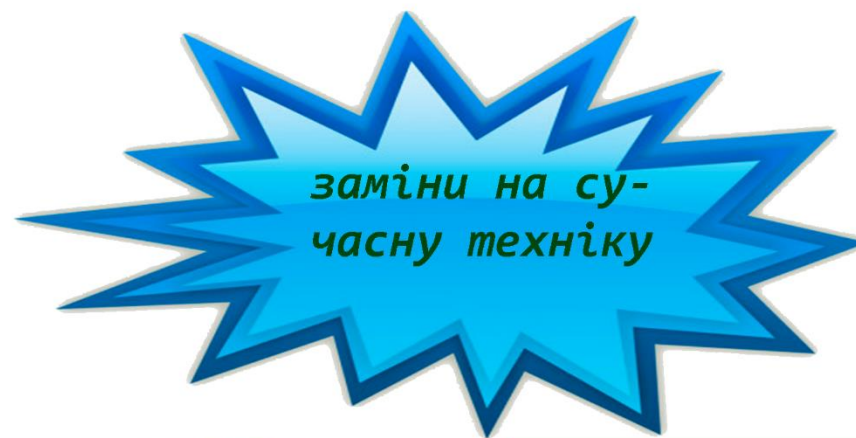
Машинка-автомат пере одяг за 1,5 години. Скільки разів можна буде закинути прати одяг за 6 годин?



Комбайн прибирає 1 поле за 2 години. Скільки часу йому потрібно щоб прибарати 4 поля?



Які винаходи призвели до промислових революцій? _____





Чим зручніше сучасне житло? _____

Звідки ти береш воду вдома?

Намалюй план своєї оселі. Синім кольором покажи водопостачання.



Упізнай служби порятунку, підпиши їх та напиши номери.



Твій алгоритм дій, якщо в будинку сталася пожежа.

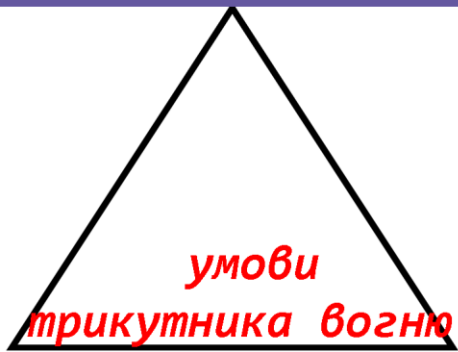
Чи доводилося тобі в своєму житті викликати службу порятунку, чи бути свідком подій. Напиши. _____

Б
е
з
п
е
к
а

в

п
а
д
у
т
і

Намалюй табличку попередження ураження струмом.

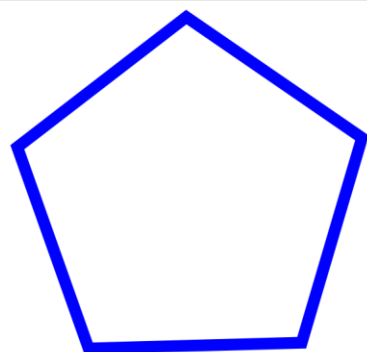


умови трикутника вогню

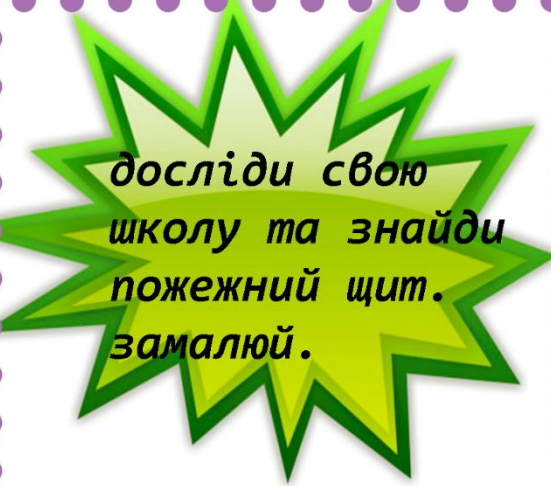
Напиши, які легкозаймисті речовини не повинні бути близько до вогню

Four horizontal lines for writing.

Чим категорично заборонено гасити електроприлади?



досліди свою школу та знайди пожежний щит. замалюй.



Обведи: **горючі**, **негорючі**.

- папір солома пісок
- вугілля вата дерево
- вода сіль пластмас залізо




Напиши позитивні і негативні сторони вогню

Two columns of horizontal lines for writing.



Безпечна дорога



Підпиши, що означає кожен колір для пішохода.

гальмівний шлях-це

Чому виникають небезпечні ситуації на дорогах?

Підпиши знаки для пішоходів



ПРАВИЛА ДОРОЖНЬОГО РУХУ
Колірні кола: червоне, жовте, зелене.
Текст: Коли червоне враз... «Будь уважним, не пустуй! Жовте світло мовить... Як моргає світлофор...»
Ілюстрації: діти, світлофор.

відпочинь та почитай

Three empty boxes for drawing or writing.



Якими знаками позначають "залізничний переїзд"?

А які знаки зустрічаєш ти по дорозі до школи?

Large empty box for drawing or writing.

У мене є засіб активного відпочинку
Я мрію про такий засіб активного відпочинку

Техніка для активної відпочинку

Two large dashed rectangular boxes for drawing or writing.



Навіщо тобі активно відпочивати?

Спроектуй транспорт майбутнього

A large, irregular purple outline for drawing a futuristic vehicle.



Я знаю такі види транспорту:

Three horizontal lines for writing.



Обери одяг для активного відпочинку?



веселі задачки



Дениско першого дня проїхав на велосипеді 15 км, другого-31км, а третього - 20 км.

Скільки всього км проїхав Дениско?


Виріши приклад і ти дізнаєся у скільки років Миколці подарували велосипед.

$56 + (64 : 8) - 55 =$



Я УСЕ ЗАПАМ'ЯТАВ

Про що тобі найбільше сподобалося говорити? _____



Чи сподобалася тобі книга Я досліджую світ?

Намалюй відповідний смайл!



Про що ти хотів дізнатися у 4 класі?

За що ти вдячний цій книзі?



МОЄ ЩАСЛИВЕ ЛІТО

на чоловічку намалюй себе, а на окулярах, те як мрієш провести літні канікули.

