


MATH IN LIFE

**МІНІ – ПРОЄКТИ
З МАТЕМАТИКИ**

5 КЛАС

У СЕБЕ ВДОМА ПОРАХУЙ КІЛЬКІСТЬ ПРЕДМЕТІВ, ЩО ВКАЗАНО НА ВІДПОВІДНИХ КАРТИНКАХ



ЯКЩО ТИ БАЖАЄШ ЗАПРОСИТИ ДО СЕБЕ НА ЧАЮВАННЯ 12 ДРУЗІВ, ЧИ ВИСТАЧИТЬ ТОБІ ВСІХ ПРЕДМЕТІВ?



ВИСТАЧИТЬ

мені не вистачить


.....

.....

ДЛЯ НАВЧАННЯ У 5 КЛАСІ УЧНІ ОТРИМАЛИ ПІДРУЧНИКИ З РІЗНИХ ПРЕДМЕТІВ. ЗАЗИРНИ ДО СВОЇХ ПІДРУЧНИКІВ ТА З'ЯСУЙ КІЛЬКІСТЬ СТОРІНОК У ДЕЯКИХ З НИХ



НАЙМЕНШУ КІЛЬКІСТЬ СТОРІНОК МАЄ ПІДРУЧНИК



ВІДКРИЙ ЗМІСТ ПІДРУЧНИКА З МАТЕМАТИКИ ТА
ЗАПОВНИ ВІДПОВІДНІ КОМІРКИ



РОЗДІЛ 1 ПІДРУЧНИКА ПОЧИНАЄТЬСЯ НА
СТОРІНЦІ ПІДРУЧНИКА ТА
ЗАКІНЧУЄТЬСЯ НА СТОРІНЦІ,
МІСТИТЬ ПАРАГРАФІВ

РОЗДІЛ 3 ПІДРУЧНИКА ПОЧИНАЄТЬСЯ НА СТОРІНЦІ
..... ПІДРУЧНИКА ТА ЗАКІНЧУЄТЬСЯ НА СТОРІНЦІ

.....

ПРЕДМЕТНИЙ ПОКАЗЧИК ЗАЙМАЄ ВСЬОГО
СТОРІНКИ ПІДРУЧНИКА

РОЗДІЛ 2 ПІДРУЧНИКА ЗАЙМАЄ
ВСЬОГО СТОРІНОК
(ПОЧИНАЄТЬСЯ ЗІ СТОРІНКИ ТА
ЗАКІНЧУЄТЬСЯ НА СТОРІНЦІ,)

НАЙБІЛЬШУ КІЛЬКІСТЬ ПАРАГРАФІВ
МІСТИТЬ РОЗДІЛ (..... ШТУК)





ПЕРЕД ТОБОЮ РОЗКЛАД ДЗВОНІКІВ ДЛЯ
СТАРШОЇ ШКОЛИ ТА ДЛЯ ПОЧАТКОВОЇ.
КОРИСТУЮЧИСЬ РОЗКЛАДАМИ ПРОВЕДИ
ДОСЛІДЖЕННЯ

Початкова школа		
	урок	перерва
1 урок	8.30 – 9.10	
2 урок	9.30 – 10.10	
3 урок	10.30 – 11.10	
4 урок	11.40 – 12.20	
5 урок	12.40 – 13.20	

Старша школа		
	урок	перерва
1 урок	8.30 – 9.15	
2 урок	9.25 – 10.10	
3 урок	10.30 – 11.15	
4 урок	11.35 – 12.20	
5 урок	12.30 – 13.15	
6 урок	13.25 – 14.10	
7 урок	14.20 – 15.05	

ЗАПИШИ МАТЕМАТИЧНИМ ВИРАЗОМ СУМУ ВСІХ
ПЕРЕВ СТАРШОЇ ШКОЛИ. ПОРАХУЙ ЗНАЧЕННЯ

Two large pink rounded rectangular boxes for writing the answer to the first question.

СКІЛЬКИ ХВИЛИН СКЛАДАЄ НАЙДОВША ПЕРЕРВА
ПОЧАТКОВОЇ ШКОЛИ?

A large pink rounded rectangular box for writing the answer to the second question.

УЧЕНЬ ПОЧАТКОВОЇ ШКОЛИ МАЄ 4 УРОКИ.
О 12.45 ПОЧИНАЮТЬСЯ ЗАНЯТТЯ З ТАНЦІВ.
ЧИ ВСТИГНЕ УЧЕНЬ ДІСТАТИСЯ, ЯКЩО
ПОТРІБНО 35 ХВИЛИН НА ДОРОГУ?

A large pink rounded rectangular box for writing the answer to the third question.



СЬОГОДНІ ТИ БУДУВАТИМЕШ НЕЗВИЧНУ ПІРАМІДУ.

ПОЧНИ З БЛОКІВ ПОМАРАНЧОВОГО КОЛЬОРУ --
ЗАПИШИ В НИХ ТРИЦИФРОВІ ЧИСЛА НА СВІЙ
РОЗСУД.

У БЛОКИ ЗЕЛЕНОГО КОЛЬОРУ ВПИШИ СУМУ ДВОХ
ЧИСЕЛ, ЩО ЗАПИСАНО НИЖЧЕ.

У БЛОК ЖОВТОГО КОЛЬОРУ ВПИШИ СУМУ ТРЬОХ
ЧИСЕЛ ЗЕЛЕНИХ БЛОКІВ

У БЛОК СИНЬОГО КОЛЬОРУ ВПИШИ СУМУ
НАЙБІЛЬШОГО ЧИСЛА З ПОМАРАНЧОВОГО БЛОКУ
ТА НАЙМЕНШОГО ЧИСЛА ЗЕЛЕНОГО БЛОКУ

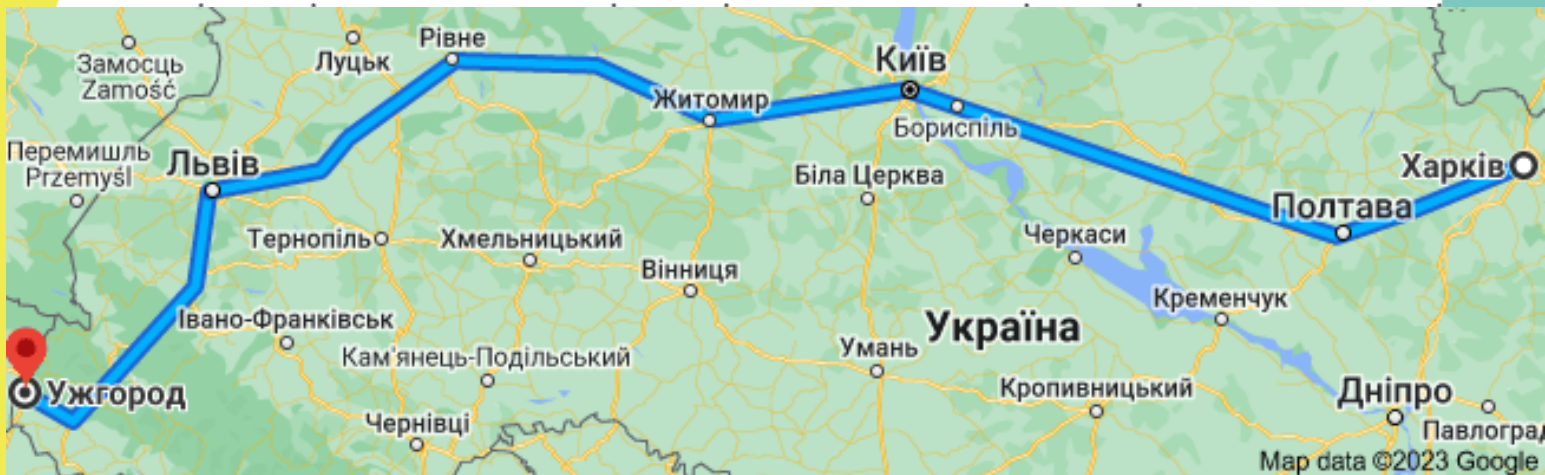


5) ПОДОРОЖ НА АВТОБУСІ



КОЖЕН З НАС ХОЧА Б РАЗ У ЖИТТІ
ПОДОРОЖУВАВ НА АВТОБУСІ.

ЩО ВАЖЛИВО ЗНАТИ У ТАКІЙ СИТУАЦІЇ: ПУНКТ
ВИЇЗДУ, МІСЦЕ ПРИБУТТЯ, ЗУПИНКИ ЗА
МАРШРУТОМ, ТАРИФ ПЕРЕВЕЗЕННЯ.



ПЕРЕВІЗНИК ПРОПОНУЄ ДІСТАТИСЯ З ХАРКОВА ДО
УЖГОРОДА НА АВТОБУСІ (ВІДПРАВЛЕННЯ О 8.00,
ПРИБУТТЯ О 5.30 НАСТУПНОГО ДНЯ).

ВАРТІСТЬ КВИТКА ДЛЯ ДОРОСЛОГО СКЛАДАЄ
2200ГРН.



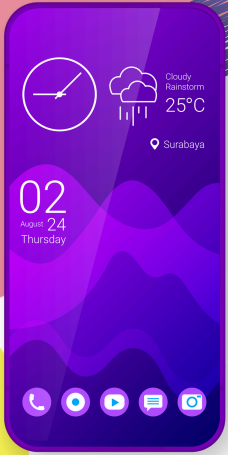
СКІЛЬКИ ПОВНИХ ГОДИН ПЕРЕБУВАТИМЕ У ДОРОЗІ ПАСАЖИР, ЯКЩО У КИЄВІ ЗАПЛАНОВАНО ПЕРЕСАДКУ З ЧАСОМ ОЧІКУВАННЯ 1 ГОД 30 ХВ?

ОБЧИСЛИ ЗАГАЛЬНУ ВАРТІСТЬ КВИТКІВ ДЛЯ РОДИНИ З ДВОХ ДОРΟΣЛИХ ТА ДИТИНИ (ДИТЯЧИЙ КВИТОК СТАНОВИТЬ $\frac{4}{5}$ ВАРТОСТІ ДОРΟΣЛОГО КВИТКА)

ОБЧИСЛИ ВАРТІСТЬ ПРОЇЗДУ ДЛЯ ПАСАЖИРА, ЯКОМУ ПОТРІБНО ДІСТАТИСЯ З ЖИТОМИРА ДО ЛЬВОВА, ЯКЩО ТАРИФ НА ПРОЇЗД ЦІЄЇ ЧАСТИНИ МАРШРУТУ СКЛАДАЄ $\frac{2}{11}$ ВАРТОСТІ КВИТКА

ЯКУ КІЛЬКІСТЬ ЗУПИНОК ЗА МАРШРУТОМ ПОЗНАЧЕНО НА КАРТІ, РАХУЮЧИ ПУНКТ ВИЇЗДУ ТА ПРИБУТТЯ?

6) ОБИРАЄМО СМАРТФОН




1

Пам'ять -- 6 Гб
Діагональ -- 6 дюймів
Акумулятор -- 5000мАч



2

Пам'ять -- 7 Гб
Діагональ -- 5 дюймів
Акумулятор -- 6000мАч





3

Пам'ять -- 8 Гб
Діагональ -- 7 дюймів
Акумулятор -- 7000мАч


найбільша пам'ять у смартфона

найбільша діагональ у смартфона

найменший об'єм акумулятора у смартфона



найкращі характеристики
у смартфона



обчисли вартість кожного смартфона -- для цього знайди суму таких доданків: пам'ять помножена на 800, діагональ помножена на 500, об'єм акумулятора помножений на 2


ЦІНА смартфона 1



ЦІНА смартфона 2



ЦІНА смартфона 3





тактичний
костюм
1900 грн



військовий
шолом
9800 грн



тактичні
берці
3000 грн



плітоноська
бронезжилет
6900 грн

ОБЧИСЛИ ВАРТІСТЬ ЕКІПІРУВАННЯ ДЛЯ 400 ВІЙСЬКОВИХ

ЯКИМ ЧИНОМ ЗМІНІТЬСЯ ЗАГАЛЬНА
ВАРТІСТЬ ЕКІПІРУВАННЯ, ЯКЩО ДОДАТИ
ДО СПИСКУ ДВА ТОВАРИ

шапка та
балаклава
560 грн



бушлат
зимовий
3200 грн

На волонтерському банківському рахунку наразі зібрано 568 000 грн донатів. Яку максимальну кількість тактичних аптечок зможуть волонтери придбати для ЗСУ, якщо в першу чергу придбають два генератори?



Тактична аптечка РЯТІВНИК "РОЗШИРЕНА.Базова":

Готово до відправки

5 495 €

5 295 €



Дизельний генератор, 5 кВт,
Hyundai 65211, 1ф,

Залишити відгук

142 995 €

89 990 €



9) ДОМАШНІ УЛЮБЛЕНЦІ

Кожен з вас знає про сухий корм для кошенят та цуценят. Опрацюй надану інформацію та зроби висновок у якому пакуванні вигідніше купувати сухий корм



10 кг, 680 грн



500 грам,
36 грн



1 кг, 63 грн



10 кг, 630 грн





Обчисли витрати на придбання корму для 1 цуценя та 2 кошенят, якщо для цуценя потрібно 12 кг корму, а для кошеня -- 1кг 500грам (купувати можна лише такими упаковками, як на фото)

ДЛЯ ЦУЦЕНЯ



Two large green rounded rectangular boxes for calculations.



ДЛЯ ДВОХ КОШЕНЯТ

Three large green rounded rectangular boxes for calculations.

Яку решту ти отримаєш, якщо за всю покупку заплатиш



Two large green rounded rectangular boxes for calculations.



Для відправлення пакувань НОВА ПОШТА пропонує своїм клієнтам різноманітні коробки. Вартість відправлення буде залежати від об'єму коробки та її ваги.

Потрібно оформити відправлення двох посилок, що знаходяться у відповідних коробках. Обчисли об'єм кожної коробки

1



2



1

2



Ваги показали, що коробка No1 важить 3кг, а коробка No2 важить 2 кг. Маршрут відправлення Харків - Київ, оголошена вартість відправлення 500грн.

Головна / Вартість доставки

Вартість доставки

Орієнтовна вартість перевезення.

✓ Маршрут

Місто-відправник: Харків | Місто-одержувач: Київ

Вид відправлення: Посилки

Характеристика місць

Кількість	Оголошена вартість	Вага	Довжина	Ширина	Висота
1	500 грн	3 кг			

Додати місце

Послуга "Пакування" Тарифи пакування

Послуга "Підйом на поверх" кількість поверхів | Ліфт

Послуга "Зворотна доставка"

Розрахувати вартість | Очистити

Використай сайт Нової Пошти та за допомогою онлайн калькулятора з'ясуй вартість доставки кожної коробки від відділення до відділення

1

2

Чи вистачить тобі для оплати така кількість грошей?



MATH IN LIFE

