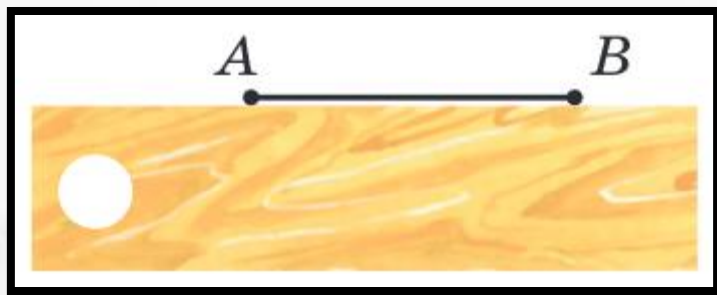




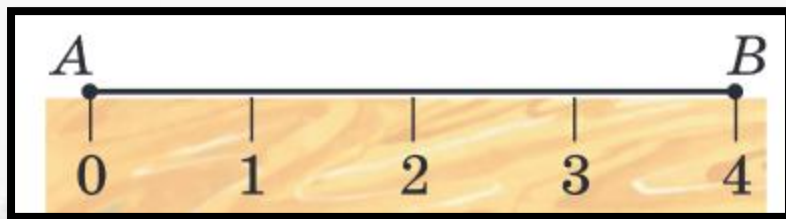
Шкала. Координатний промінь

Дивіться відео-версію презентації за посиланням:

<https://youtu.be/3QaxXFjavxA>



МАТЕМАТИКА
УКРАЇНСЬКОЮ



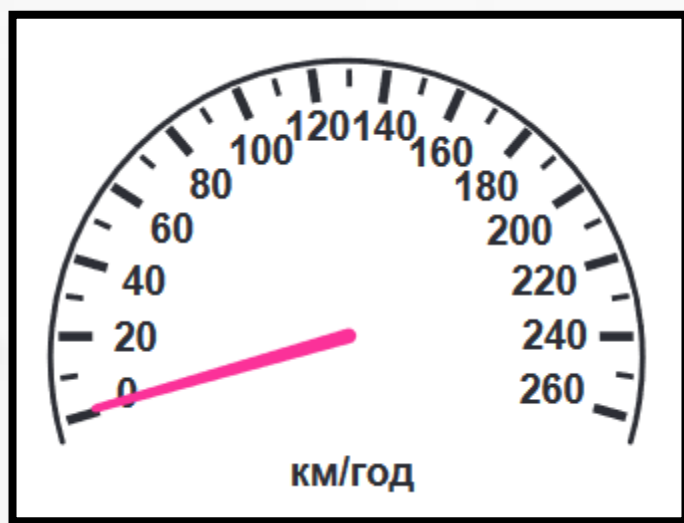
МАТЕМАТИКА
УКРАЇНСЬКОЮ



**МАТЕМАТИКА
УКРАЇНСЬКОЮ**




**МАТЕМАТИКА
УКРАЇНСЬКОЮ**



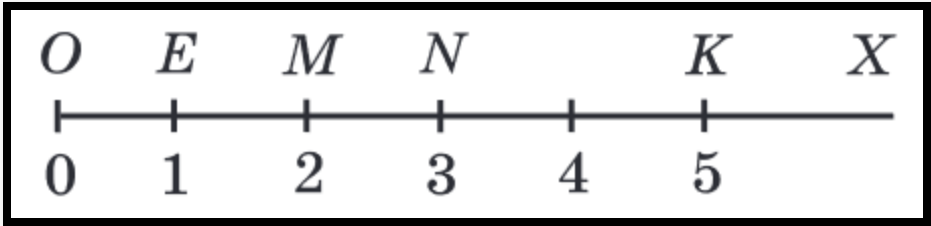
МАТЕМАТИКА
УКРАЇНСЬКОЮ



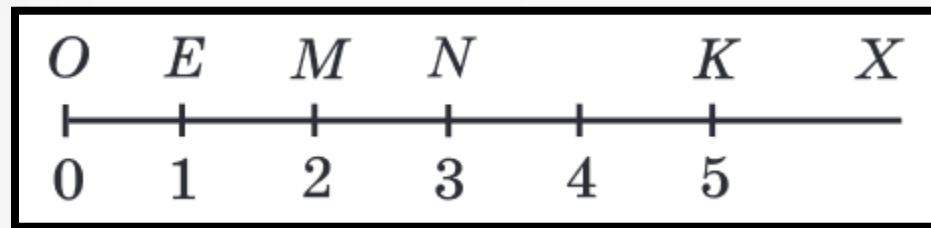
**МАТЕМАТИКА
УКРАЇНСЬКОЮ**



МАТЕМАТИКА
УКРАЇНСЬКОЮ



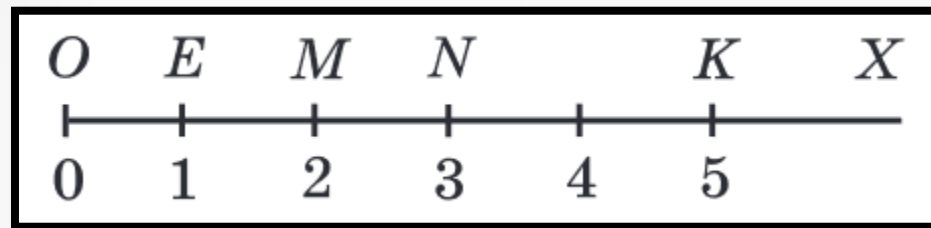
**МАТЕМАТИКА
УКРАЇНСЬКОЮ**



OX — координатний промінь

Точка O — початок відрітку

OE — одиничний відрізок



$K(5)$

$O(0)$ $E(1)$ $M(2)$ $N(3)$



МАТЕМАТИКА
УКРАЇНСЬКОЮ



Наведіть приклади приладів, які мають шкали.



Наведіть приклади приладів, які
мають шкали.

Правильна відповідь — Годинник,
спідометр, термометр, ваги тощо

Поясніть, що називають координатним променем.

Правильна відповідь —
Координатним променем називають промінь, на якому обрано початок відліку та задано одиничний відрізок

A collection of yellow school supplies is scattered on a white background. Visible items include several folders, a pair of scissors, several pencils, and two pencil sharpeners. The supplies are arranged in the left and bottom-left portions of the frame, leaving the right side mostly empty.

У якому разі говорять, що число 7 є
координатою точки А?



У якому разі говорять, що число 7 є координатою точки A ?

Правильна відповідь — Якщо точка A знаходиться на відстані 7 одиничних відрізків від початку відліку

The background of the slide features a collection of yellow school supplies, including folders, pencils, sharpeners, and a pair of scissors, arranged in a scattered pattern on a white surface.

Як записують, що число 7 є координатою точки А?

A background of yellow school supplies including a pencil case, pencils, erasers, and sharpeners.

Як записують, що число 7 є координатою точки А?

Правильна відповідь — $A(7)$